



日本地図

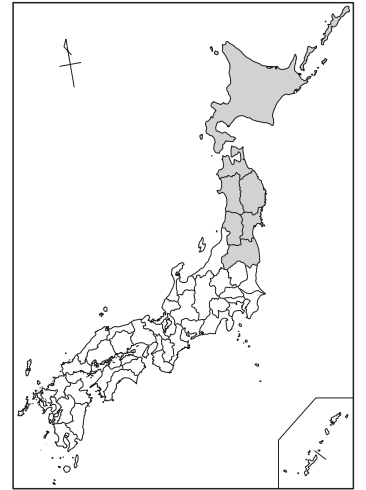
# 北海道・東北地方

なまえ

組番

◆ 北海道・東北地方の①～⑦の都道府県の名前を  から選んで、  
( ) に書こう！

- |                    |                      |                    |                    |
|--------------------|----------------------|--------------------|--------------------|
| あおもり<br><b>青森県</b> | あきた<br><b>秋田県</b>    | ふくしま<br><b>福島県</b> | やまがた<br><b>山形県</b> |
| みやぎ<br><b>宮城県</b>  | ほっかいどう<br><b>北海道</b> | いわて<br><b>岩手県</b>  |                    |




① 札幌の「雪祭り」が有名だね。  
( **北海道** )



② 日本一の「りんご」の産地だよ。  
( **青森県** )



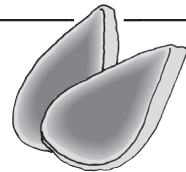
⑤ 「なまはげ」が有名だよ。  
( **秋田県** )



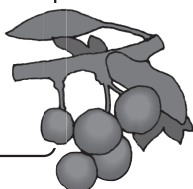
③ 「わんこそば」が有名だね。  
( **岩手県** )



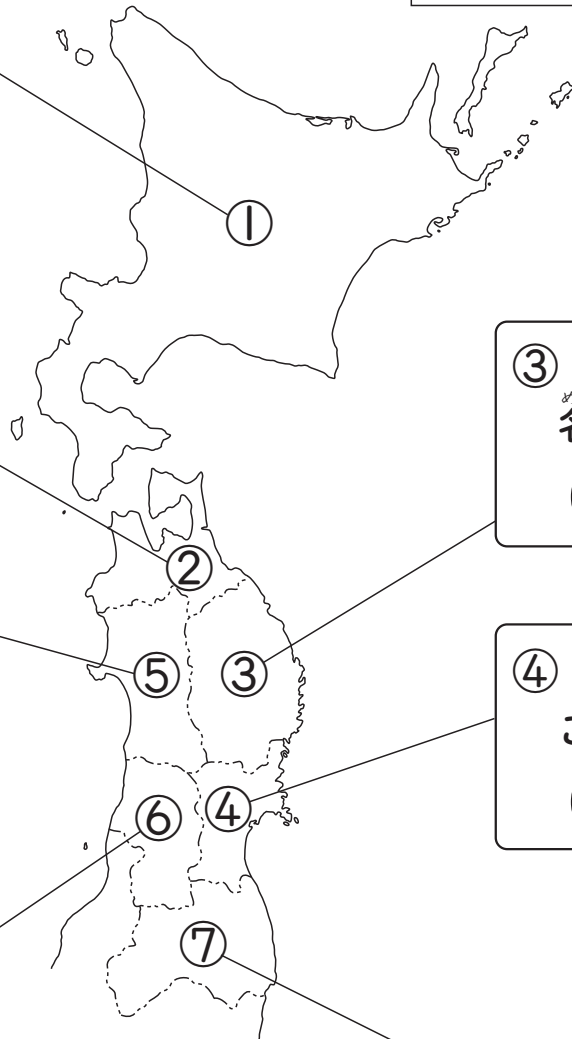

④ 仙台の「ささかまぼこ」がおいしいよ。  
( **宮城県** )



⑥ 「さくらんぼ」がおいしいね。  
( **山形県** )



⑦ おみやげに「赤べこ」がおすすめだよ。  
( **福島県** )





日本地図

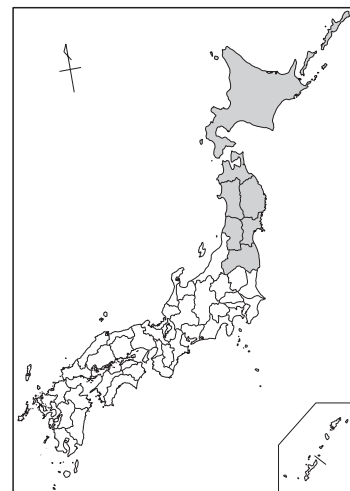
# 北海道・東北地方

なまえ

組番

◆ 北海道・東北地方の①～⑦の都道府県の名前を  から選んで、  
( ) に書こう！

- |                    |                      |                    |                    |
|--------------------|----------------------|--------------------|--------------------|
| あおもり<br><b>青森県</b> | あきた<br><b>秋田県</b>    | ふくしま<br><b>福島県</b> | やまがた<br><b>山形県</b> |
| みやぎ<br><b>宮城県</b>  | ほっかいどう<br><b>北海道</b> | いわて<br><b>岩手県</b>  |                    |



① 札幌の「雪祭り」が有名だね。  
( )




② 日本一の「りんご」の産地だよ。  
( )



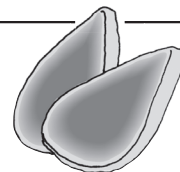
③ 「わんこそば」が有名だね。  
( )



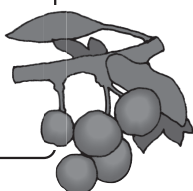
⑤ 「なまはげ」が有名だよ。  
( )



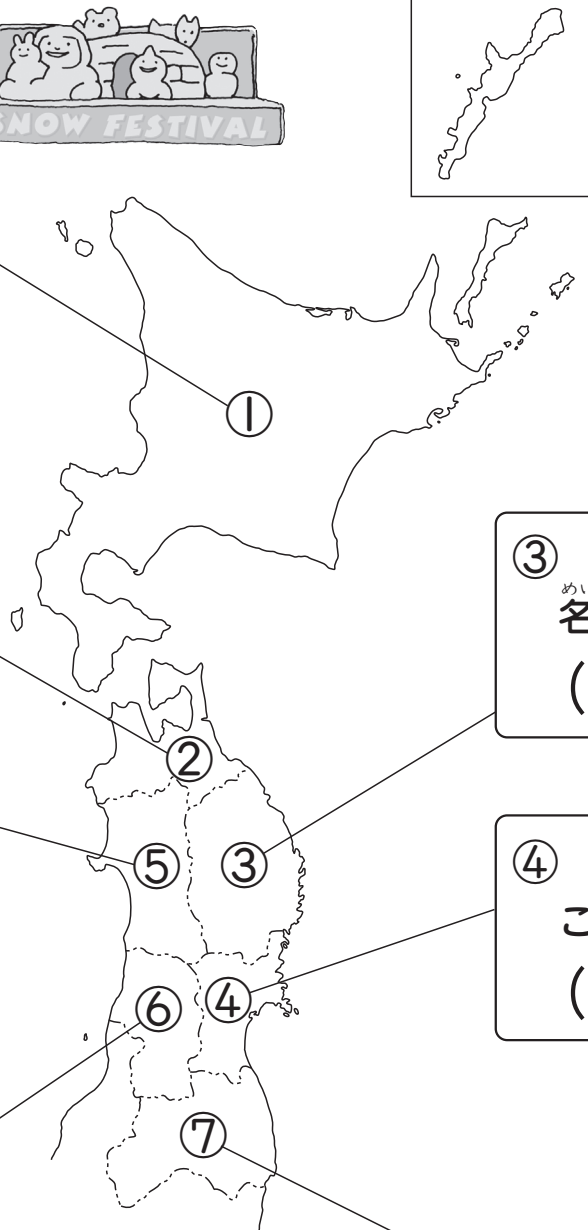

④ 仙台の「ささかまぼこ」がおいしいよ。  
( )



⑥ 「さくらんぼ」がおいしいね。  
( )



⑦ おみやげに「赤べこ」がおすすめだよ。  
( )





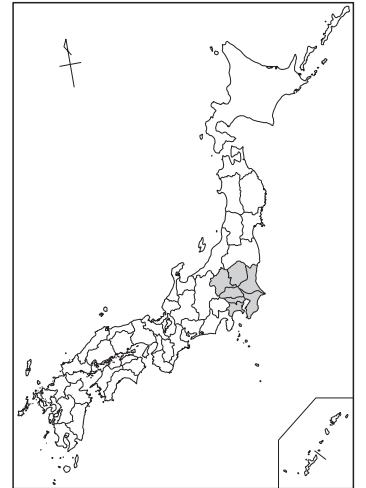

日本地図 関東地方

なまえ

組番

◆ 関東地方の①～⑦の都道府県の名前を [ ] から選んで、( ) に書こう！

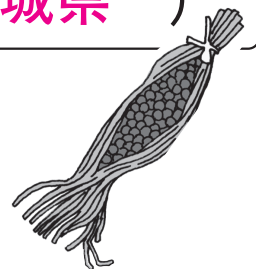
- ちば 千葉県
- とうきょう 東京都
- とちぎ 栃木県
- ぐんま 群馬県
- さいたま 埼玉県
- いばらき 茨城県
- かながわ 神奈川県



③ 高崎の「だるま弁当」  
がおいしいよ。  
( **群馬県** )

② 「日光東照宮」が  
あるよ。  
( **栃木県** )

① 水戸の「納豆」が有  
名だね。  
( **茨城県** )



④ 岩槻の「ひな人形」  
が有名だね。  
( **埼玉県** )

⑤ 「らっかせい」がた  
くさんとれるよ。  
( **千葉県** )



⑥ 日本の首都で「国会  
議事堂」があるよ。  
( **東京都** )



⑦ 横浜に「みなとみら  
い21」があるよ。  
( **神奈川県** )





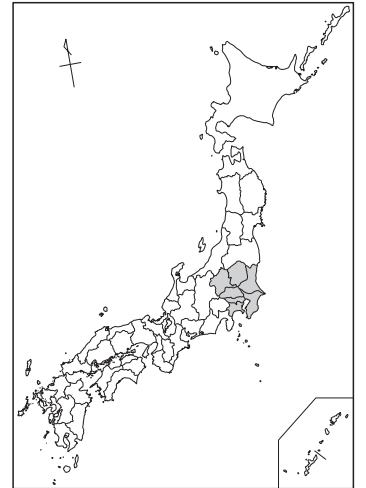

日本地図  
関東地方

なまえ

組番

◆ 関東地方の①～⑦の都道府県の名前を  から選んで、( ) に書こう！

- |             |              |              |            |
|-------------|--------------|--------------|------------|
| ちば<br>千葉県   | とうきょう<br>東京都 | とちぎ<br>栃木県   | ぐんま<br>群馬県 |
| さいたま<br>埼玉県 | いばらき<br>茨城県  | かながわ<br>神奈川県 |            |

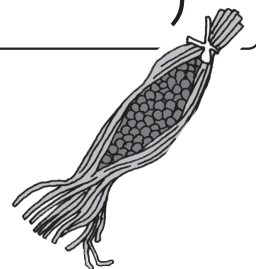


③ <sup>たかさき</sup>高崎の「<sup>べんとう</sup>だるま弁当」  
がおいしいよ。  
( )




② <sup>にっこうとうしょうぐう</sup>「日光東照宮」が  
あるよ。  
( )

① <sup>みと</sup>水戸の「<sup>なっとう</sup>納豆」が有  
<sup>めい</sup>名だね。  
( )



④ <sup>いわつき</sup>岩槻の「<sup>にんぎょう</sup>ひな人形」  
が有名だね。  
( )



⑤ 「<sup>らっかせい</sup>らっかせい」がた  
くさんとれるよ。  
( )



⑥ 日本の首都で「<sup>こっかい</sup>国会  
<sup>ぎじどう</sup>議事堂」があるよ。  
( )



⑦ <sup>よこはま</sup>横浜に「<sup>みなとみらい</sup>みなとみら  
い21」があるよ。  
( )





日本地図

# 中部地方

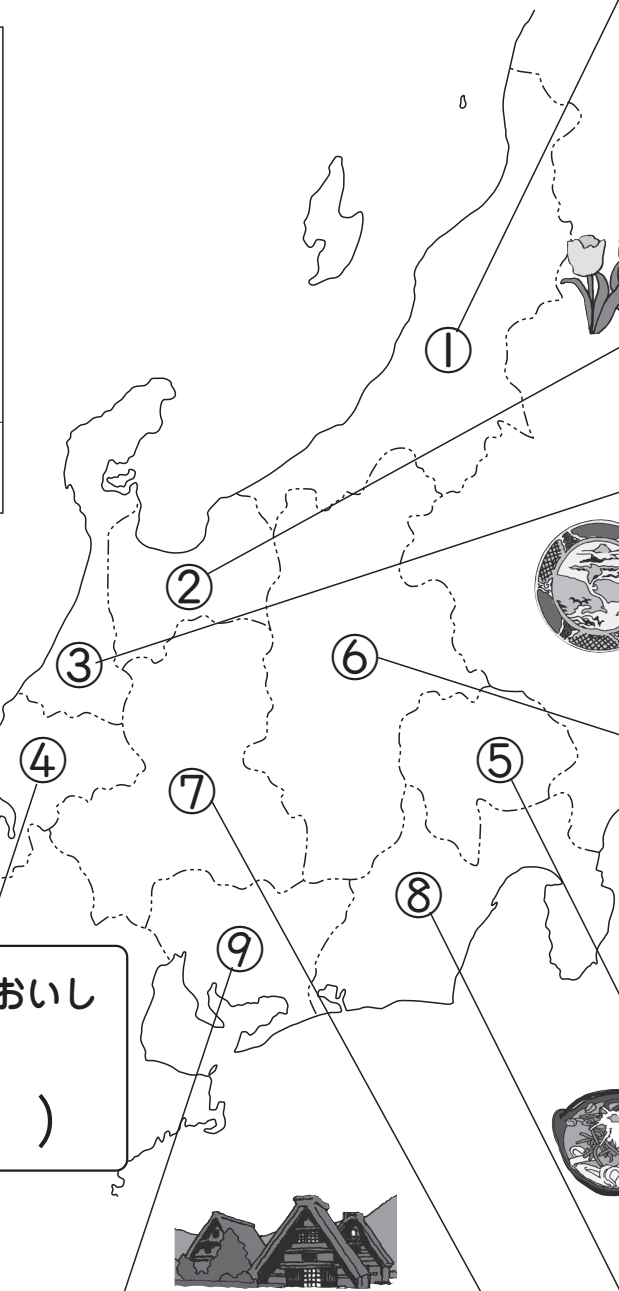
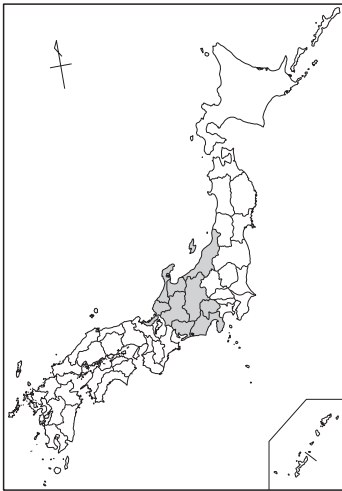
なまえ

組


番

◆ 中部地方の①～⑨の都道府県の名前を  から選んで、( ) に書こう！


- |             |             |             |            |             |
|-------------|-------------|-------------|------------|-------------|
| しずおか<br>静岡県 | あいち<br>愛知県  | とやま<br>富山県  | ぎふ<br>岐阜県  | いしかわ<br>石川県 |
| ふくい<br>福井県  | やまなし<br>山梨県 | にいがた<br>新潟県 | ながの<br>長野県 |             |




① 「コシヒカリ」というおいしい米がとれるよ。  
( **新潟県** )




② 「チューリップ畑」が広がっているよ。  
( **富山県** )




③ 焼き物の「九谷焼」が有名だね。  
( **石川県** )




⑥ 「信州そば」がおいしいね。  
( **長野県** )




④ 「越前がに」がおいしいよ。  
( **福井県** )




⑤ 「ぶどう」と「もも」、「ほうとう」もおいしいよ。  
( **山梨県** )




⑨ 豊田では「自動車づくり」がさかんだね。  
( **愛知県** )



⑦ 白川郷には「合掌造り集落」があるよ。  
( **岐阜県** )



⑧ 「富士山」と「お茶」が有名だよ。  
( **静岡県** )





日本地図

中部地方

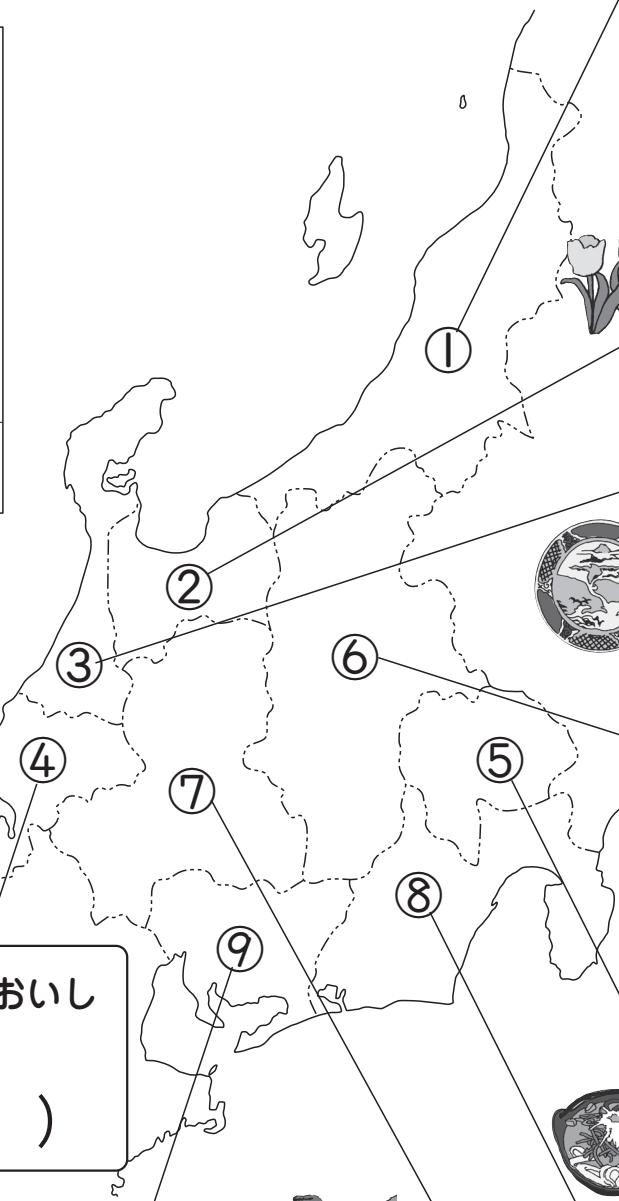
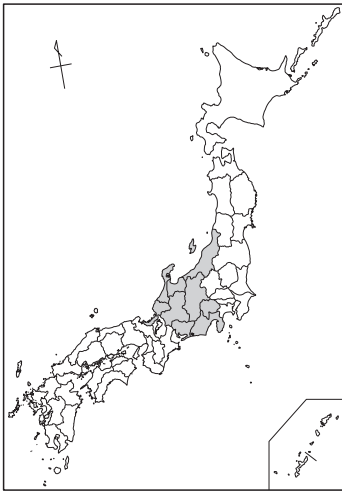
なまえ


組


番


◆ 中部地方の①～⑨の都道府県の名前を  から選んで、( ) に書こう！


- |             |             |             |            |             |
|-------------|-------------|-------------|------------|-------------|
| しずおか<br>静岡県 | あいち<br>愛知県  | とやま<br>富山県  | ぎふ<br>岐阜県  | いしかわ<br>石川県 |
| ふくい<br>福井県  | やまなし<br>山梨県 | にいがた<br>新潟県 | ながの<br>長野県 |             |





① 「コシヒカリ」というおいしい米がとれるよ。  
( ) 


② 「チューリップ畑」が広がっているよ。  
( ) 


③ 焼き物の「九谷焼」が有名だね。  
( ) 


⑥ 「信州そば」がおいしいね。  
( ) 

④ 「越前がに」がおいしいよ。  
( ) 

⑤ 「ぶどう」と「もも」、「ほうとう」もおいしいよ。  
( ) 

⑨ 豊田では「自動車づくり」がさかんだね。  
( ) 

⑦ 白川郷には「合掌造り集落」があるよ。  
( ) 

⑧ 「富士山」と「お茶」が有名だよ。  
( ) 



日本地図

# 近畿地方

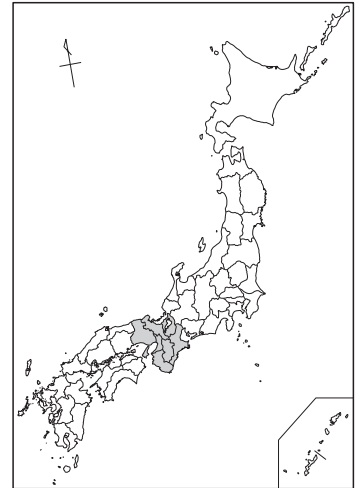
なまえ

組

番

◆ 近畿地方の①～⑦の都道府県の名前を  から選んで、( ) に書こう！



- |           |              |              |           |
|-----------|--------------|--------------|-----------|
| みえ<br>三重県 | おおさかふ<br>大阪府 | ひょうご<br>兵庫県  | しが<br>滋賀県 |
| なら<br>奈良県 | きょうとふ<br>京都府 | わかやま<br>和歌山県 |           |



⑤ 「姫路城」や「明石焼き」が有名だね。  
( **兵庫県** )


③ 「金閣」や「銀閣」があるよ。  
( **京都府** )

② 日本一の広い湖、「琵琶湖」があるよ。  
( **滋賀県** )




④ 「通天閣」や「お好み焼き」が有名だよ。  
( **大阪府** )

① 「伊勢えび」がおいしいよ。  
( **三重県** )



⑦ 日本一の「みかん」と「うめ」の産地だよ。  
( **和歌山県** )

⑥ 「東大寺の大仏」や「春日大社」があるよ。  
( **奈良県** )





日本地図

# 近畿地方

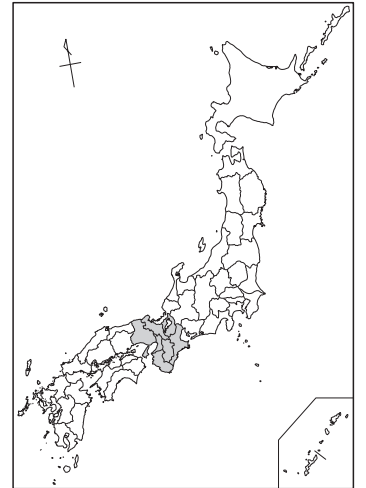
なまえ

組

番

◆ 近畿地方の①～⑦の都道府県の名前を  から選んで、( ) に書こう！




- |     |     |      |     |
|-----|-----|------|-----|
| 三重県 | 大阪府 | 兵庫県  | 滋賀県 |
| 奈良県 | 京都府 | 和歌山県 |     |



⑤ 「姫路城」や「明石焼き」が有名だね。  
( )


③ 「金閣」や「銀閣」があるよ。  
( )

② 日本一の広い湖、「琵琶湖」があるよ。  
( )



④ 「通天閣」や「お好み焼き」が有名だよ。  
( )

① 「伊勢えび」がおいしいよ。  
( )



⑦ 日本一の「みかん」と「うめ」の産地だよ。  
( )



⑥ 「東大寺の大仏」や「春日大社」があるよ。  
( )





日本地図

# 中国・四国地方

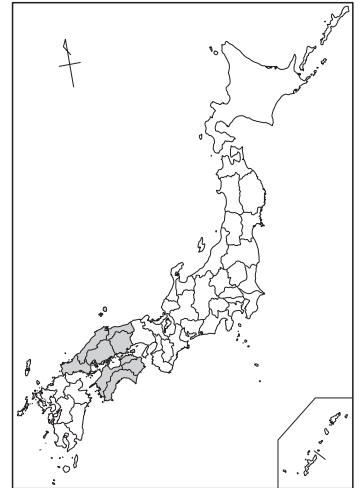
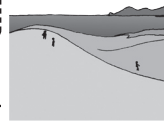
なまえ

組


番

◆ 中国・四国地方の①～⑨の都道府県の名前を  から選んで、  
( ) に書こう！

- |            |             |             |             |             |
|------------|-------------|-------------|-------------|-------------|
| こうち<br>高知県 | えひめ<br>愛媛県  | おかやま<br>岡山県 | とっとり<br>鳥取県 | やまぐち<br>山口県 |
| かがわ<br>香川県 | とくしま<br>徳島県 | しまね<br>島根県  | ひろしま<br>広島県 |             |



② 「石見銀山」や「出雲大社」が有名だね。  
( **島根県** )



① 日本一の「砂丘」があるよ。  
( **鳥取県** )


④ 「原爆ドーム」があるよ。  
( **広島県** )



③ 「桃太郎」の話が生まれた場所だよ。  
( **岡山県** )




⑤ 下関の「ふぐ」は名物だよ。  
( **山口県** )



⑥ 「阿波踊り」が有名だよ。  
( **徳島県** )




⑧ 松山の「道後温泉」は小説の舞台だね。  
( **愛媛県** )



⑨ 「なす」がたくさんとれるよ。  
( **高知県** )



⑦ 「金刀比羅宮」や「讃岐うどん」が有名だよ。  
( **香川県** )





日本地図

中国・四国地方

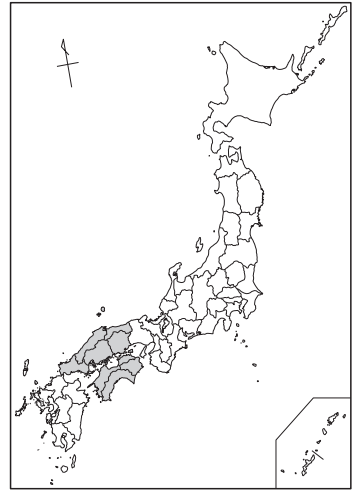
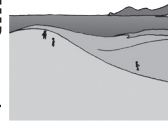
なまえ

組


番

◆ 中国・四国地方の①～⑨の都道府県の名前を  から選んで、  
( ) に書こう！

- |            |             |             |             |             |
|------------|-------------|-------------|-------------|-------------|
| こうち<br>高知県 | えひめ<br>愛媛県  | おかやま<br>岡山県 | とっとり<br>鳥取県 | やまぐち<br>山口県 |
| かがわ<br>香川県 | とくしま<br>徳島県 | しまね<br>島根県  | ひろしま<br>広島県 |             |




② 「石見銀山」や「出雲大社」が有名だね。  
( )




① 日本一の「砂丘」があるよ。  
( )

④ 「原爆ドーム」があるよ。  
( )



③ 「桃太郎」の話が生まれた場所だよ。  
( )




⑤ 下関の「ふぐ」は名物だよ。  
( )




⑥ 「阿波踊り」が有名だよ。  
( )



⑧ 松山の「道後温泉」は小説のぶ台だね。  
( )




⑨ 「なす」がたくさんとれるよ。  
( )



⑦ 「金刀比羅宮」や「讃岐うどん」が有名だよ。  
( )





日本地図

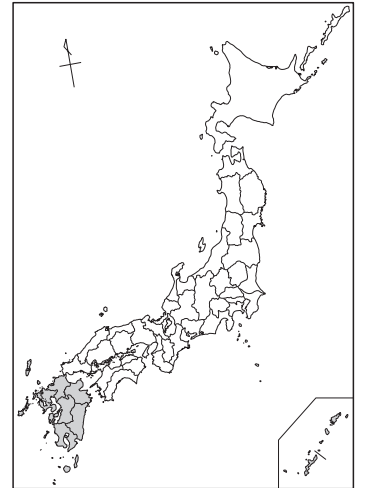
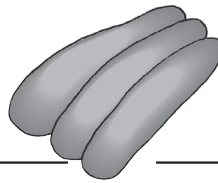
# 九州地方

なまえ

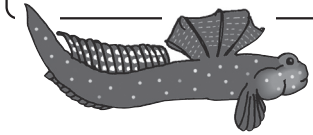
組番

◆ 九州地方の①～⑧の都道府県の名前を  から選んで、( ) に書こう！

- |             |             |             |              |
|-------------|-------------|-------------|--------------|
| おきなわ<br>沖縄県 | さが<br>佐賀県   | おおいた<br>大分県 | くまもと<br>熊本県  |
| みやざき<br>宮崎県 | ふくおか<br>福岡県 | ながさき<br>長崎県 | かごしま<br>鹿児島県 |




② 有明海には「ムツゴロウ」がいるよ。  
( **佐賀県** )



① 「博多めんたいこ」が有名だよ。  
( **福岡県** )



⑤ 「別府温泉」があるよ。  
( **大分県** )

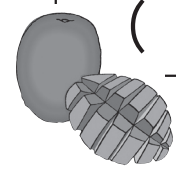


③ 「カステラ」と祭りの「くんち」が有名だね。  
( **長崎県** )

④ 「すいか」や「からしれんこん」がおいしいね。  
( **熊本県** )

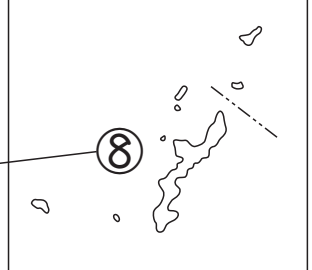


⑥ 「マンゴー」が有名だよ。  
( **宮崎県** )



⑦ 「縄文杉」で有名な屋久島があるよ。  
( **鹿児島県** )

⑧ 「シーサー」や「サンゴしょう」が有名だよ。  
( **沖縄県** )





日本地図

# 九州地方

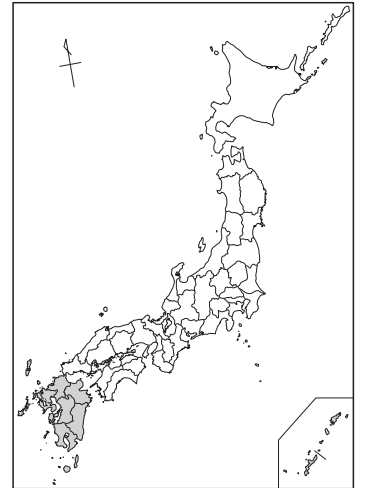
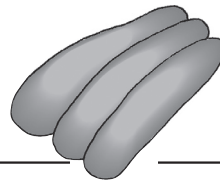
なまえ

組

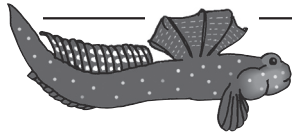
番

◆ 九州地方の①～⑧の都道府県の名前を  から選んで、( ) に書こう！

- |             |             |             |              |
|-------------|-------------|-------------|--------------|
| おきなわ<br>沖縄県 | さが<br>佐賀県   | おおいた<br>大分県 | くまもと<br>熊本県  |
| みやざき<br>宮崎県 | ふくおか<br>福岡県 | ながさき<br>長崎県 | かごしま<br>鹿児島県 |




② 有明海には「ムツゴロウ」がいるよ。  
( )



① 「博多めんたいこ」が有名だよ。  
( )

⑤ 「別府温泉」があるよ。  
( )

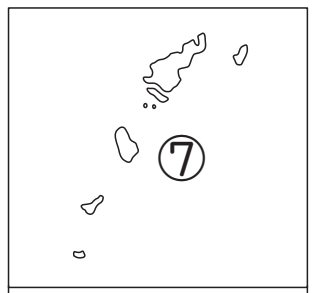
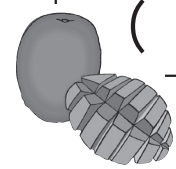


③ 「カステラ」と祭りの「くんち」が有名だね。  
( )

④ 「すいか」や「からしれんこん」がおいしいね。  
( )



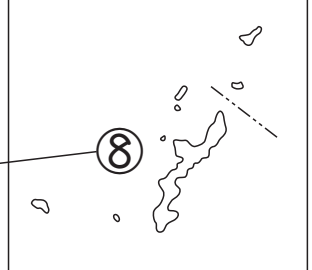
⑥ 「マンゴー」が有名だよ。  
( )



⑦ 「縄文杉」で有名な屋久島があるよ。  
( )



⑧ 「シーサー」や「サンゴしょう」が有名だよ。  
( )





日本地図

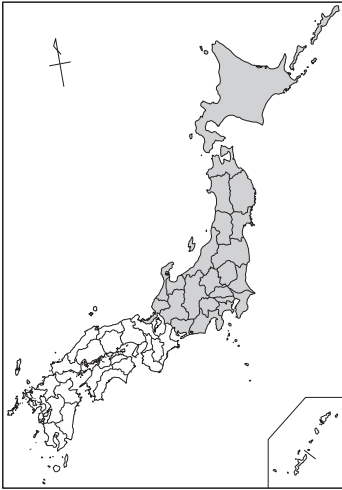
東の方にある県は？

なまえ

組

番

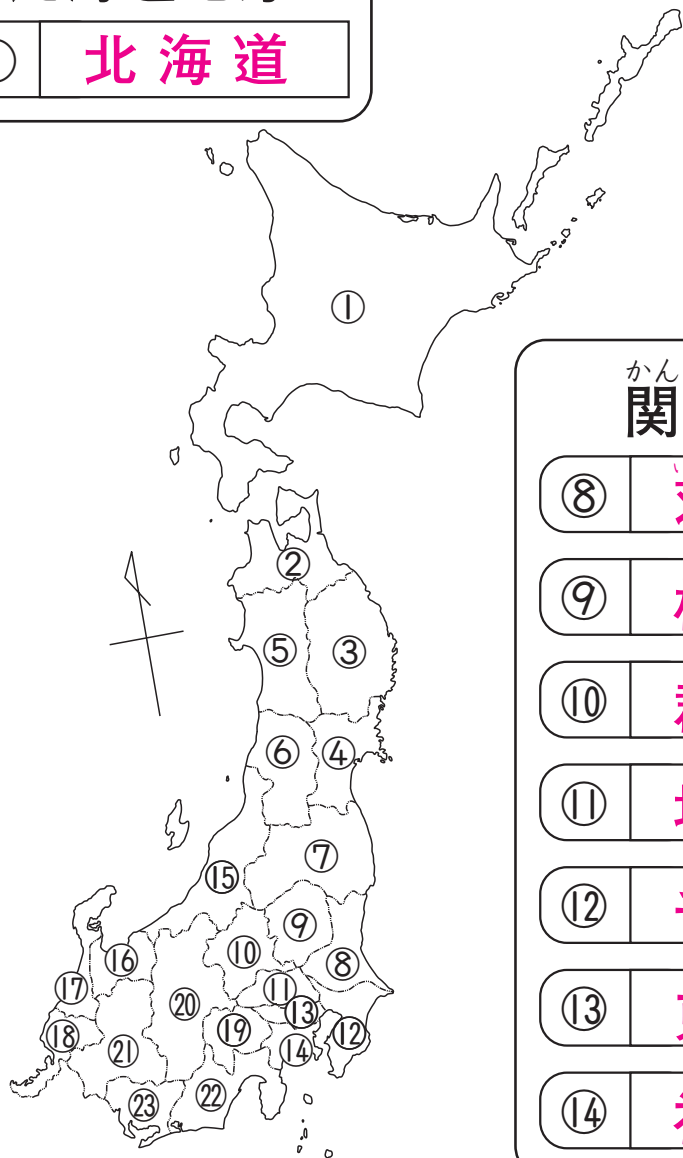
◆ ①～⑳㉓にあう都道府県の名前を書こう！



ほっかいどう  
北海道地方

① 北海道

ポイントワークや地図帳で  
かくにんしよう。



とうほく  
東北地方

② 青森県

③ 岩手県

④ 宮城県

⑤ 秋田県

⑥ 山形県

⑦ 福島県

かんとう  
関東地方

⑧ 茨城県

⑨ 栃木県

⑩ 群馬県

⑪ 埼玉県

⑫ 千葉県

⑬ 東京都

⑭ 神奈川県

ちゅうぶ  
中部地方

⑮ 新潟県

⑯ 富山県

⑰ 石川県

⑱ 福井県

⑲ 山梨県

⑳ 長野県

㉑ 岐阜県

㉒ 静岡県

㉓ 愛知県



日本地図

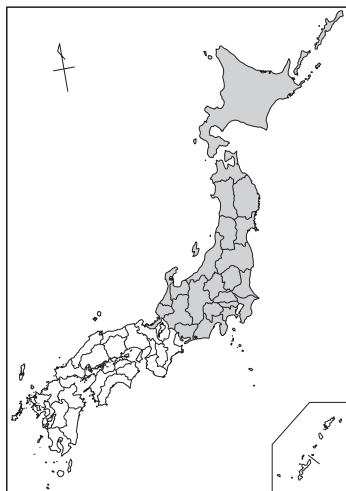
東の方にある県は？

なまえ

組

番

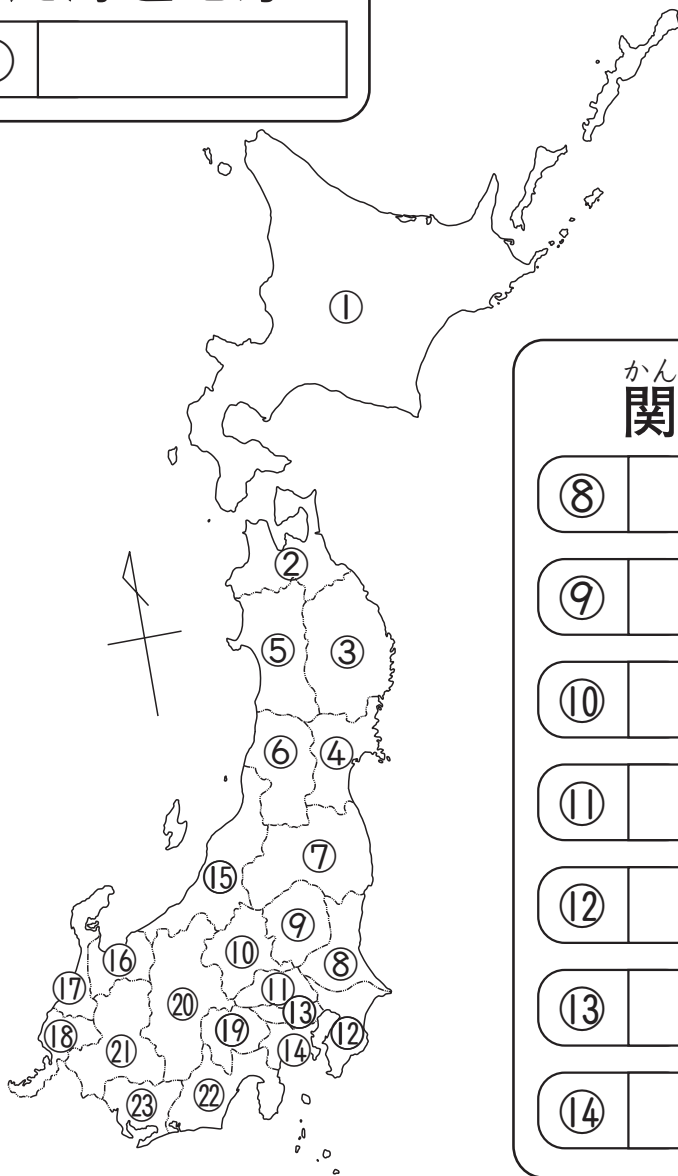
◆ ①～⑳にあう都道府県の名前を書こう！



ほっかいどう  
**北海道地方**

①

ポイントワークや地図帳でかくにんしよう。



とうほく  
**東北地方**

②

③

④

⑤

⑥

⑦

かんとう  
**関東地方**

⑧

⑨

⑩

⑪

⑫

⑬

⑭

ちゅうぶ  
**中部地方**

⑮  ⑱  ㉑

⑯  ㉒

⑰  ㉓



日本地図

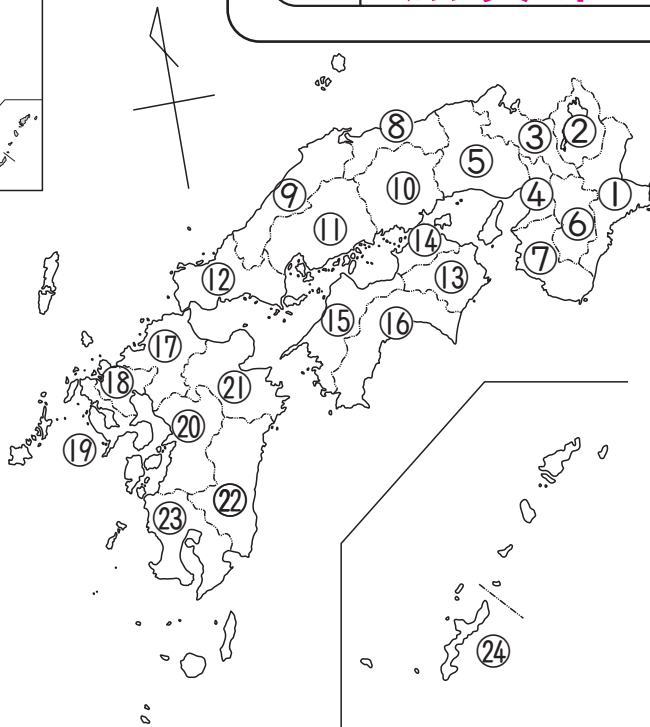
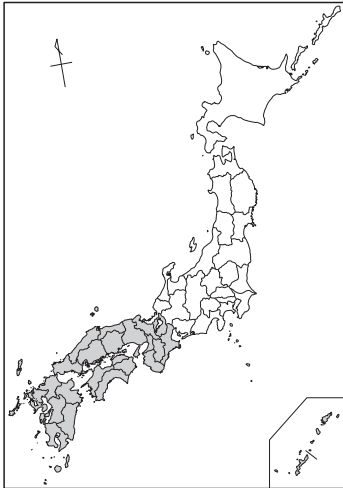
西の方にある県は？

なまえ

組

番

◆ ①～②④にあう都道府県の名前を書こう！



きんき 近畿地方

① 三重県

② 滋賀県

③ 京都府

④ 大阪府

⑤ 兵庫県

⑥ 奈良県

⑦ 和歌山県

ポイントワーク  
や地図帳でかく  
にんしょう。



しこく 四国地方

⑬ 徳島県

⑭ 香川県

⑮ 愛媛県

⑯ 高知県

ちゅうごく 中国地方

⑧ 鳥取県

⑨ 島根県

⑩ 岡山県

⑪ 広島県

⑫ 山口県

きゅうしゅう 九州地方

⑰ 福岡県

⑱ 佐賀県

⑲ 長崎県

⑳ 熊本県

㉑ 大分県

㉒ 宮崎県

㉓ 鹿児島県

㉔ 沖縄県



日本地図

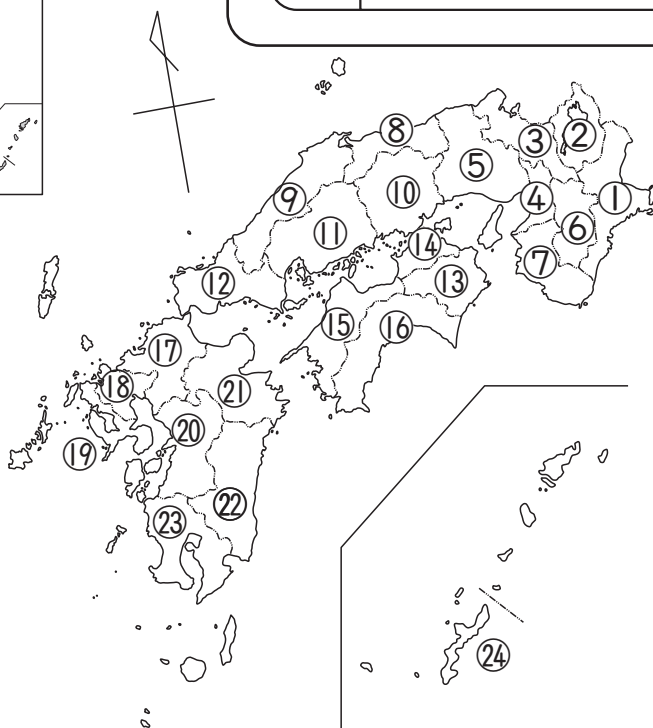
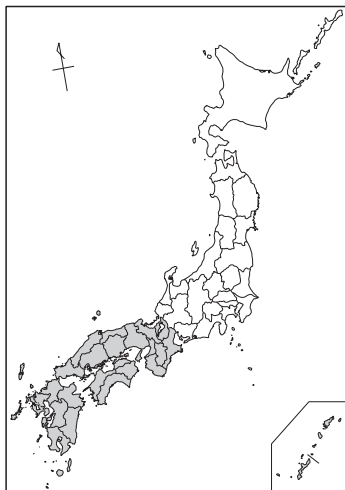
西の方にある県は？

なまえ

組

番

◆ ①～②④にあう都道府県とどうふけんの名前を書こう！



きんき 近畿地方

①

②

③

④

⑤

⑥

⑦

ポイントワーク  
や地図帳でかく  
にんしょう。



しこく 四国地方

⑬

⑭

⑮

⑯

ちゅうごく 中国地方

⑧

⑨

⑩

⑪

⑫

きゅうしゅう 九州地方

⑰

⑱

⑲

⑳

㉑

㉒

㉓

㉔