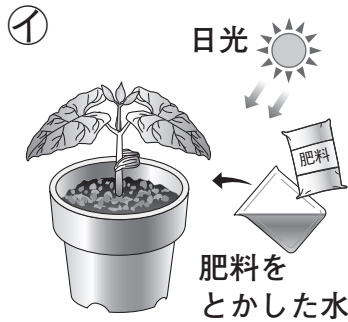
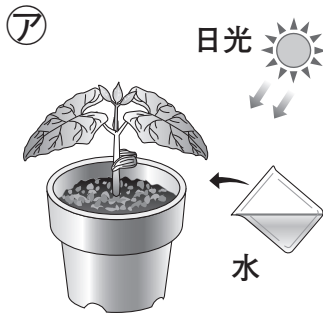


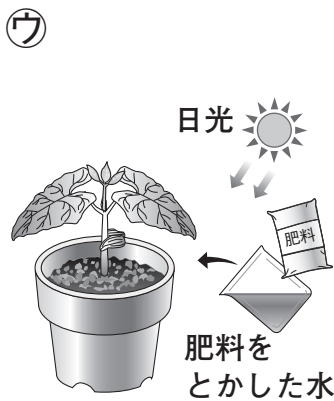
<p>たしかめ</p>	<p>植物の成長</p>	<p>なまえ</p>	<p>組番</p>	<p>／4問</p>
--------------------	---------------------	------------	-----------	------------

◆ インゲンマメの成長について、次の問いに答えましょう。



① 左のようにして育てると、大きく育つのはアイのどちらですか。

(イ)



② ウエで、成長と日光の関係を調べます。エにあたるのは、水・肥料ひりょうをとかした水のどちらですか。

(肥料をとかした水)


③ 大きくじょうぶに育つと考えられるのは、ウエのどちらですか。

(ウ)

カ
葉の色がうすくて、弱々しい。

キ
葉の数が少なくて、小さい。

ク
葉の数が多くて、じょうぶ。



④ 同じ大きさのインゲンマメを日光と肥料じょうけんの条件を変えて育てると、左のように育ちました。日光を当てなかったのは、カキクのどれですか。

(カ)