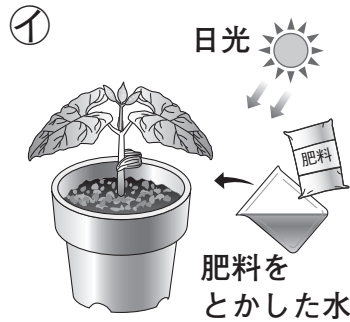
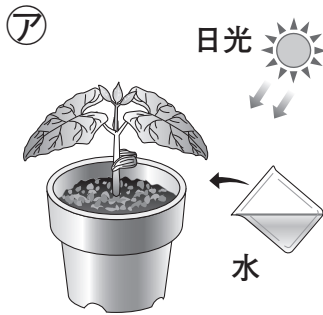


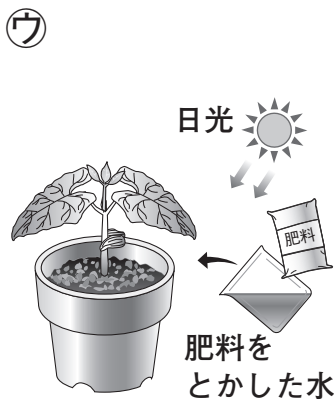
	<h1>植物の成長</h1>	なまえ	組 番	/ 4問
--	----------------	-----	-----	------

◆ インゲンマメの成長について、次の問いに答えましょう。



① 左のようにして育てると、大きく育つのは アイのどちらですか。

()



② ウエで、成長と日光の関係を調べます。エにあたるのは、水・肥料を ^{ひりょう} とかした水の どちらですか。

()


③ 大きくじょうぶに育つと考えられるのは、 ウエのどちらですか。

()

カ
葉の色がうすくて、弱々しい。

キ
葉の数が少なくて、小さい。

ク
葉の数が多くて、じょうぶ。



④ 同じ大きさのインゲンマメを日光と肥料の条件を ^{じょうけん} 変えて育てると、左のように育ちました。日光を当てなかったのは、カキクの どれですか。

()