


たしかめ 天気の変化	組 番 なまえ	/ 5問
-------------------	------------	------

◆ 天気と雲のようすや天気の変化について、次の問いに答えましょう。


空全体の雲のようす



雲の量…0



雲の量…4



雲の量…9

- ① 空全体の広さを10として、雲の量が4のときの天気は、晴れ・くもりのどちらですか。

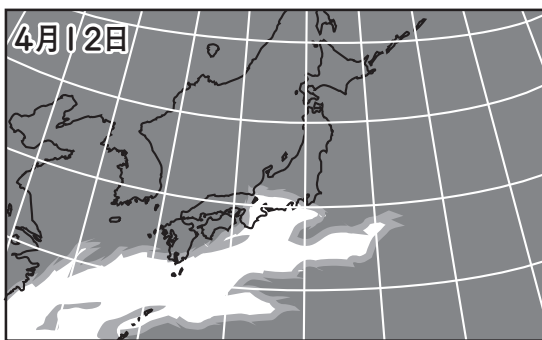
(晴れ)

- ② これから雨がふると考えられるのは、空が明るくなったときと、暗くなったときのどちらですか。

(暗くなった とき)

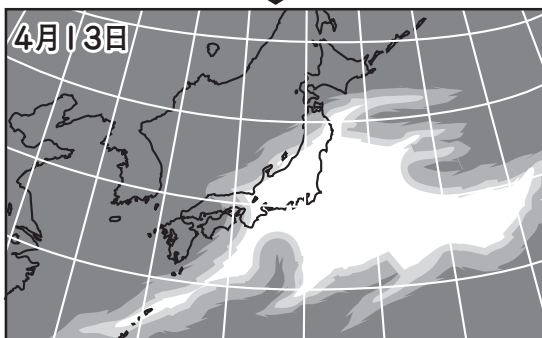
- ③ 天気が「くもり」から「晴れ」になると、雲の量はどのように変化しますか。

(少なくなる。)



- ④ 春のころの日本付近の雲の動き方は、東から西・西から東のどちらですか。

(西から東)



- ⑤ 明日の天気^{あす}を予想するためには、どの方角の天気を調べればよいですか。

(西)