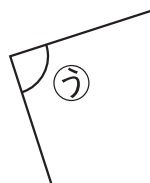
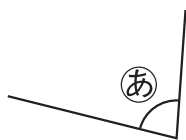


じゅんぴ

垂直・平行と四角形

なまえ

1 ㉑, ㉒, ㉓の角で, 直角はどれですか。記号で答えましょう。



()

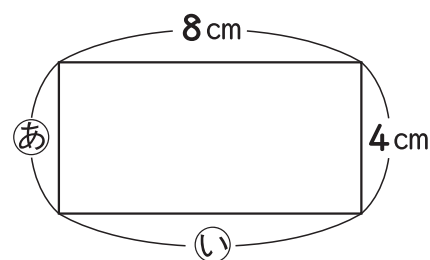
2 □にあてはまることばや数を書きましょう。

① 4本の直線でかこまれた形を □ といいます。

② 長方形や正方形の4つの角の大きさは, みんな □ です。

③ 右の長方形の㉑の辺の長さは □ cm,


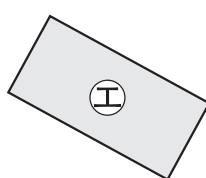
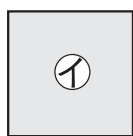

㉒の辺の長さは □ cmです。



④ 正方形の4つの辺の長さは, みんな

□ になっています。

3 下の㉔～㉙の四角形の中から, 長方形と正方形をえらびましょう。



まず, 4つの角が
直角になっている
四角形をさがそう。



長方形 ()

正方形 ()