

たしかめ

とじこめた空気や水


なまえ

組番

/5問

◆ とじこめた空気や水について、次の問いに答えましょう。

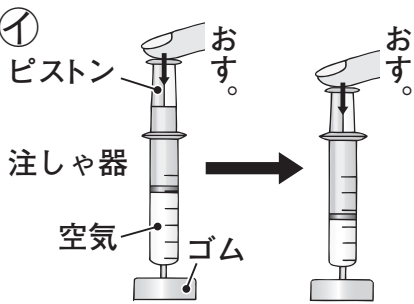
ア



① アでおしぼうをおしたら、前玉がとび出しました。前玉をおしたのは、つつの中の空気・あと玉のどちらですか。

(空気)

①



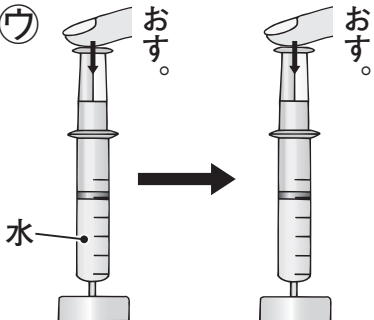
② ①のように、^{ちゅう}注しゃ器に空気を入れ、ピストンをおすと、^{たいせき}空気の体積は、小さくなる・かわらない・大きくなるのどれになりますか。

(小さくなる。)

③ ①のように、注しゃ器に空気を入れ、ピストンをおしていくと、手ごたえはだんだんどうなりますか。

(大きくなる。)
(強くなる。)

ウ



④ ウのように、注しゃ器に水を入れ、ピストンをおすと、水の体積は、小さくなる・かわらない・大きくなるのどれになりますか。

(かわらない。)

⑤ おしちぢめることができるのは、とじこめた空気ととじこめた水のどちらですか。

(空気)