

たし  
かめ


## とじこめた空気や水

なまえ

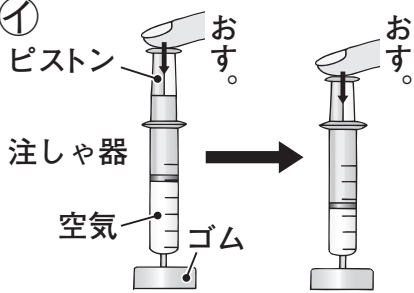
組 番

/ 5問

◆ とじこめた空気や水について、次の問いに答えましょう。

ア  ① アでおしぼうをおしたら、前玉がとび出しました。前玉をおしたのは、つつの中の空気・あと玉のどちらですか。

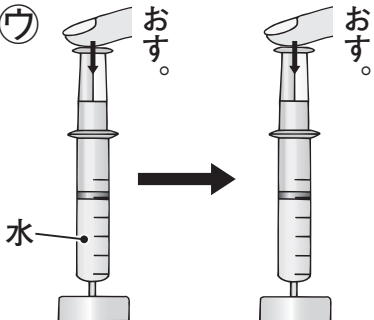
( )

①  ② ①のように、<sup>ちゅう</sup>注しゃ器<sup>き</sup>に空気を入れ、ピストンをおすと、<sup>たいせき</sup>空気の体積は、小さくなる・かわらない・大きくなるのどれになりますか。

( )

③ ①のように、注しゃ器に空気を入れ、ピストンをおしていくと、手ごたえはだんだんどうなりますか。

( )

ウ  ④ ウのように、注しゃ器に水を入れ、ピストンをおすと、水の体積は、小さくなる・かわらない・大きくなるのどれになりますか。

( )

⑤ おしちぢめることができるのは、とじこめた空気ととじこめた水のどちらですか。

( )