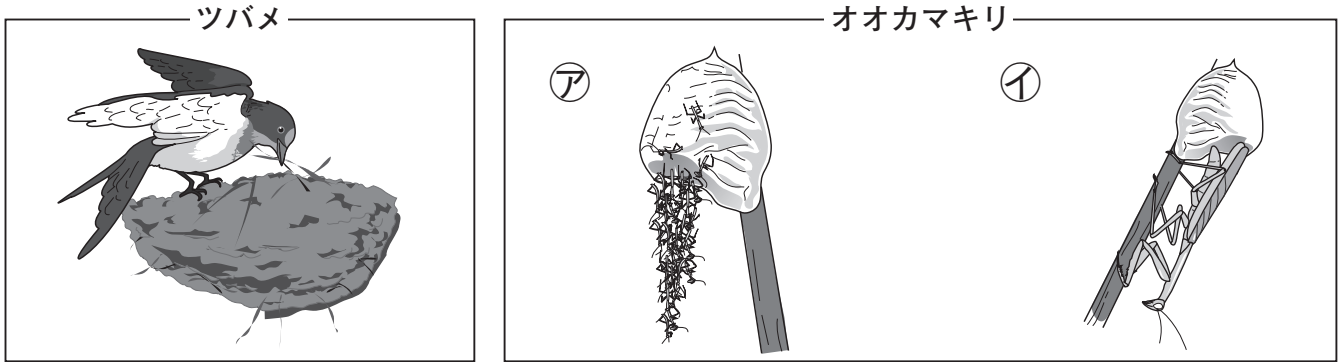


<p>たしかめ <small>きせつ</small> 季節と生き物(春)</p>	<p>組番</p>	<p>／5問</p>
--	-----------	------------

なまえ



◆ 春の生き物のようすについて、次の問いに答えましょう。



① 上の図のツバメは、たまごをうむために何をつくっていますか。
 (す 巢)

② 春のオオカマキリのようすは、アイのどちらですか。(ア)

③ 活動を始める動物が多くなるのは、冬と春のどちらですか。
 (春)

<p>サクラ ○月□日 午前10時</p> <p>カ 校庭 晴れ ■</p>  <p>花びらはほとんど落ちてしまった。緑色の葉が出てきている。</p>	<p>サクラ ○月△日 午前10時</p> <p>キ 校庭 晴れ ■</p>  <p>花がたくさんさいていて、まだつぼみのものも少し見られる。</p>
--	--

④ 4月9日と4月21日に、同じ場所でサクラのようすを観^{かん}察して記録しました。4月21日に記録したのは、カキのどちらですか。(カ)

⑤ カキの記録の■に書きたすとよいのは、気温・風の強さ・雲の形のうちどれですか。
 (気温)